

KHỞI ĐỘNG






Chủ đề
2

LÀM QUEN VỚI MỘT SỐ HÌNH PHẪNG

Bài 7

HÌNH VUÔNG, HÌNH TRÒN,
HÌNH TAM GIÁC, HÌNH CHỮ NHẬT





Khám phá



Hình vuông



Đồng hồ

Ví dụ:



Khăn tay



Hộp quà



Khung tranh




Bánh chưng




Vin gạch



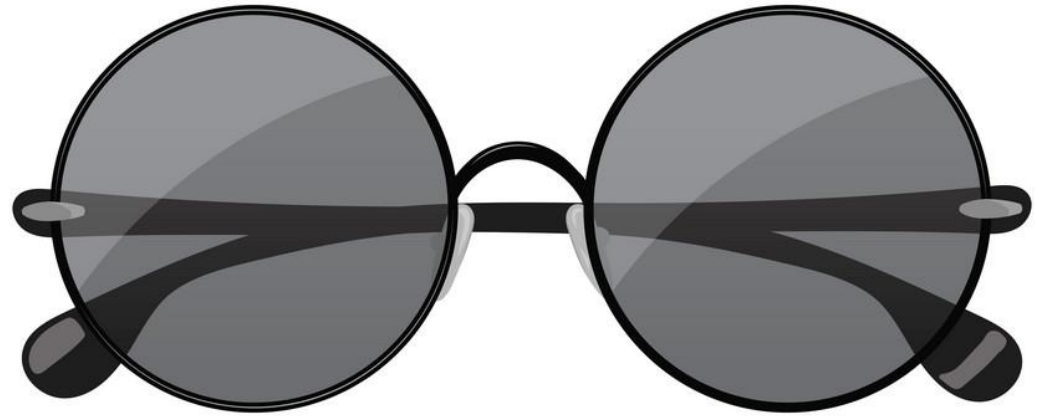
Mặt bàn ghế



Khám phá



Hình tròn



Kính râm

Ví dụ:



Đĩa



Mẹt



Nắp nồi




Thớt




Vòng tay



Bánh xe



Khám phá




Hình tam giác



Biển báo
giao thông

Ví dụ:



Biển báo giao thông



Nhà



Cờ



Thước ê ke



Kệ trang trí



Bánh bông lan



Hình chữ nhật

Ví dụ:



Tranh



Hộp quà



Thảm




Khay



Mặt bàn ghế




Gạch nền




Khám phá



Hình vuông



Hình tròn



Hình tam giác



Hình chữ nhật




Nghi giữa giờ

1 Mỗi đồ vật có dạng hình gì?



Hình vuông 



Hình tròn 



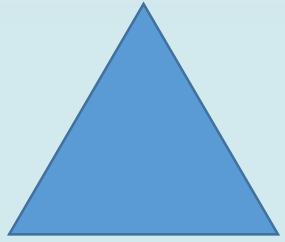
Hình chữ nhật 




Hình tam giác 



2 a) Những hình nào là hình tròn?




A



B



C



D




E


b) Những hình nào là tam giác?




A



B



C

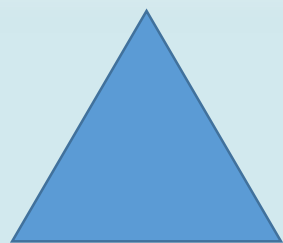


D




E

c) Những hình nào là hình vuông?



A




B



C




D



E


d) Những hình nào là chữ nhật?



A




B



C




D




E

3


Trong hình sau có bao nhiêu hình vuông



3




2




7

TRÒ CHƠI


Ai nhanh hơn




A



B



C



D

Mình ước một
chiếc bánh quy
hình tròn.

Mình ước một
chiếc bánh quy
hình chữ nhật.

Mình ước một
chiếc bánh quy
hình vuông.

Mình ước một
chiếc bánh quy
hình tam giác.



1



2



3



4




TỔNG KẾT

Xem lại bài
đã học

Hoàn thành
bài ...

Xem bài
mới.





**Tạm biệt và
hẹn gặp lại**

PARK